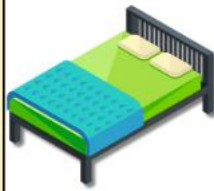



# PROJET CHAMBRE

*Décorez votre chambre de fond en clombe*



## DM N°7

Pour  
le vendredi 07 mars



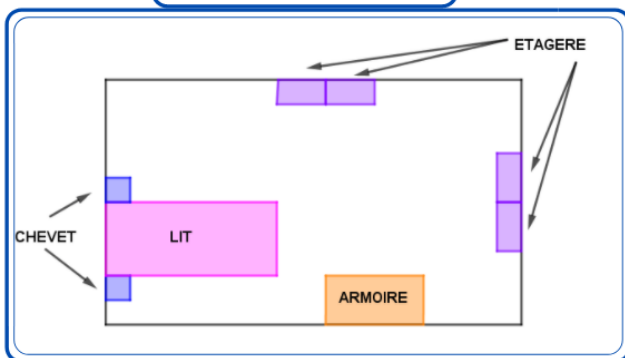
### L'aménagement de la chambre :

Les parents de Julie souhaitent meubler sa chambre pour un budget global de 1 500 €. Ils réalisent le plan (document 1), puis se rendent au magasin « Projet chambre ». Ils repèrent les articles ci-dessous (document 2).

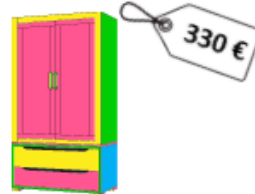
Un vendeur leur propose de louer une remorque (document 3) pour ramener les achats chez eux. Les parents décident d'en louer une pour un jour.

Aidez-les à savoir si le montant de la facture dépassera le budget initialement prévu.

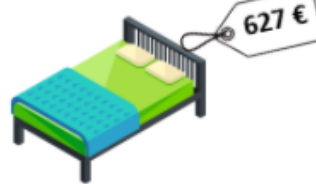
Document 1



Document 2



**ARMOIRE :**  
DIM : 109 X 58 X 44 CM  
POIDS : 70 KG



**LIT :**  
DIM : 90 X 190 CM  
POIDS : 150 KG



**CHEVET :**  
DIM : 80 X 37 X 6 CM  
POIDS : 8,5 KG



**ETAGERE :**  
DIM : 75 X 32 X 181 CM  
POIDS : 25 KG

Document 3

#### CATEGORIE BLEUE

CAPACITÉ : DE 0 KG À 300 KG  
TARIF LOCATION : 39 EUROS PAR JOUR



#### CATEGORIE ROUGE

CAPACITÉ : DE 300 KG À 600 KG  
TARIF LOCATION : 42 EUROS PAR JOUR



#### CATEGORIE VERTE

CAPACITÉ : DE 600 KG À 900 KG  
TARIF LOCATION : 49 EUROS PAR JOUR



## La décoration de la chambre :

La chambre de Julie est une pièce rectangulaire qui mesure 3,20 mètres sur 3,60 mètres.

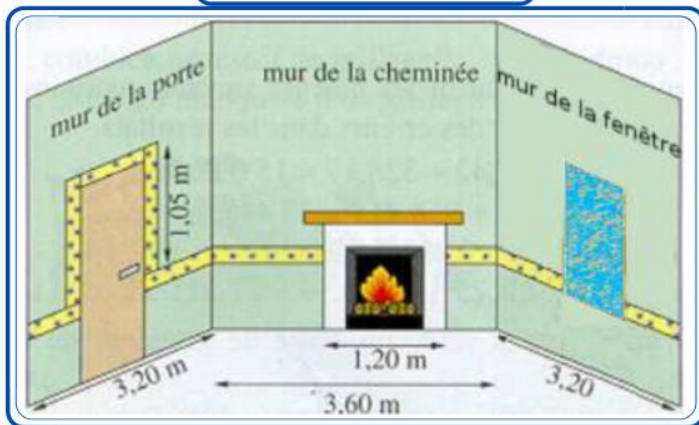
La pièce est constituée d'un mur comportant la porte, d'un autre avec une vieille cheminée, d'un troisième avec une fenêtre de 1,30 m de large et d'un quatrième mur qui n'a pas d'ouverture.

Les parents de Julie lui proposent de poser une frise. Pour financer cette décoration, elle dispose de 25 €.

Pour faire son choix, Julie dispose :

- d'un schéma (document 4) indiquant la pose particulière de la frise sur les murs de la porte, de la cheminée et de la fenêtre. Sur le quatrième mur, la frise est posée d'un bout à l'autre.
- Des recherches faites sur internet : différentes frises qui lui plaisent (document 5).
  1. Prouve que la longueur de frise nécessaire est 13,2 m.
  2. Quelle(s) frise(s) Julie peut-elle choisir ? Justifie la réponse.

Document 4



Document 5



### FRISE DAUPHIN

ROULEAU DE 17 CM SUR 5 M  
PRIX : 6,90 EUROS LE ROULEAU



### FRISE WAVES

ROULEAU DE 17 CM SUR 5 M  
PRIX : 8,90 EUROS LE ROULEAU



### FRISE CACTUS

ROULEAU DE 4 CM SUR 10 M  
PRIX : 9,50 EUROS LE ROULEAU



### FRISE SOLEIL

ROULEAU DE 13 CM SUR 5 M  
PRIX : 12,25 EUROS LE ROULEAU



FRISE ADHESIVE ARABESQUE  
ROULEAU DE 6 CM SUR 5 M  
PRIX : 9,75 EUROS LE ROULEAU

*Pour ce dm, la calculatrice est autorisée. Cependant tu dois écrire et expliquer tous les calculs effectués à la calculatrice.*